



**Многопрофильная инженерная олимпиада «Звезда»
по истории**

6-7 классы

**Отборочный этап
Вариант 1**

2018-2019

Задания, ответы и критерии оценивания

Блок 1. Задания с выбором одного ответа (2 балла за каждый правильный ответ, всего 32 балла).

Задание 1. Кто из правителей жил раньше?

- а) Тутанхамон
б) Рамзес II
в) Хеопс
г) Тутмос

Задание 2. Какая из древневосточных религий основана на тезисе, что жизнь всякого существа это страдание

- а) буддизм
б) христианство
в) конфуцианство
г) религия древних египтян

Задание 3. К какому региону Древнего мира относятся города Ур, Урук, Лагаш, Ниневия?

- а) Древний Египет
б) Месопотамия
в) Древний Китай
г) Древняя Индия

Задание 4. Двойная корона египетских фараонов символизировала:

- а) союз богов неба и земли;
б) объединение Южного и Северного царств;
в) царство "Мертвых" и "царство" живых;
г) союз фараона и вельмож.

Задание 5. Первую монету в мире из сплава золота и серебра стали чеканить:

- а) в Мидии
б) в Лидии
в) в Финикии
г) в Персии

Задание 6. Кастовая организация общества существовала:

- а) в Египте
б) в Китае
в) в Индии
г) в Греции

Задание 7. Какой из наиболее древних храмов Греции расположен на Олимпе:

- а) храм Геры
б) храм Аполлона
в) храм Посейдона
г) храм Афины

Задание 8. Кто из императоров является объединителем Китая:

- а) Цинь Ши Хуанди
б) Чжуан Сян-ван
в) Чжао Сян-ван
г) Чжоу Цзин-ван Чай

Задание 9. Из чего были созданы ремесленники согласно древнеиндийской религии?

- а) из рук Будды
б) из уст Брахмы
в) из рук Шивы
г) из бедер Брахмы
д) из ног Будды

Задание 10. Кому принадлежит фраза : «Рубикон перейден — жребий брошен»?

- а) Юлий Цезарь
б) Марк Антоний
в) Октавиан Август
г) Гней Помпей

Задание 11. Что было общего в развитии истории Двуречья и Древней Греции?

- а) города-колонии
- б) широкое использование камня и мрамора в строительстве
- в) *города-государства*
- г) развитие ирригационного земледелия
- д) общность в скульптуре, изобразительном искусстве

Задание 12. Пунами римляне называли:

- а) Греков
- б) Кочевые племена
- в) *Жителей Карфагена*
- г) Вестготов
- д) Парфян

Задание 13. Как назывался административный центр во всяком древнегреческом городе-государстве?

- а) акрополь
- б) *агора*
- в) гимнасий
- г) некрополь

Задание 14. В Древней Индии существовала игра, которая называлась "четыре рода войск". Как сейчас называется эта знаменитая игра?

- а) *шахматы*
- б) нарды
- в) карты
- г) футбол

Задание 15. В каком году Римская империя распалась на Западную и Восточную:

- а) 395 г.
- б) 410 г.
- в) 455 г.
- г) 476 г.

Задание 16. Учителем какого правителя был Аристотель?

- а) Агис I
- б) *Александр Македонский*
- в) Александр I
- г) Юлий Цезарь

Блок 2. Задание на установление правильной последовательности (3 балла).

Задание 17. Расположите в хронологической последовательности имена римских императоров:

- а) Траян
- б) Нерон
- в) Константин
- г) Октавиан

Ответ: ГБАВ

Блок 3. Задание на установление соответствия (3 балла).

Задание 18. Соотнести названия греческих и римских богов.

- | | |
|------------|------------|
| А. Зевс | 1. Марс |
| Б. Арес | 2. Юпитер |
| В. Афина | 3. Церера |
| Г. Деметра | 4. Минерва |

Ответ: А-2, Б-1, В-4, Г-3.

Блок 4. Задание на установление верных утверждений (3 балла).

Задание 19. Из предложенных ниже утверждений верными являются:

- а) Стратег Мильтиад командовал афинским войском во время Саламинского сражения.
- б) Проданных на чужбину в рабство афинян Солон вернул на родину за государственный счет.
- в) Возвращаясь в свои земли, древнееврейский народ вынужден был отвоевывать их у воинственных филистимлян.
- г) Месопотамию называли страной деревень.

- д) Символом объединения египетского государства стала бело-красная корона, которую носил фараон.
- е) Особенностью античного полиса являлось то, что большинство его граждан были землевладельцы.
- ж) Отважными мореплавателями на Древнем Востоке были финикийцы.
- з) Учение Конфуция разрушало привычные устои древнекитайского государства, звало к низвержению авторитетов.

Ответ: Б, Д, Е, Ж.

Блок 5. Задания с открытым вариантом ответа (5 баллов за каждый правильный ответ, всего 20 баллов).

Задание 20. Жители этой страны Древнего мира широко использовали глину: делали из неё кирпичи, посуду, осветительные лампы, игрушки, гробы и даже книги (точнее, таблички, на которых писали). Здесь даже возник миф о том, что Бог создал человека, вылепив его из глины. Что это за страна?

Ответ: Междуречье или Древнее Двуречье.

Задание 21. Китайский врач, навещая больного, даёт ему выпить лекарство. Больной, морщась, капризничает: «Какая гадость! Лекарство горчит, вяжет, имеет странный запах!» На что врач ответил больному: «Лекарство очень редко бывает приятным на вкус! Но оно способно вернуть тебе силы, поможет встать на ноги! Целебные свойства этого настоя очень велики. Помни мои слова, за этим питьём большое будущее!» На самом деле этот настой, который в Китае был сначала лекарством, в настоящие дни любят пить миллионы здоровых людей во всём мире. И вы не раз его пробовали. О чём идёт речь?

Ответ: этот напиток - чай.

Задание 22.

Он был царем.
Потом завоевал Египет
И стал хозяином корон
Повелевать стал всеми

Ответ: Фараон.

Задание 23.

Как называли власть такую,
Когда народ на должность избирал
А тот, кого он выбирал
перед людьми ответ держал?

Ответ: Демократия.

Блок 6. Задание на восстановление пропущенных данных (9 баллов).

Задание 24. Заполните пропуски в предложениях, используя предложенные ниже слова. Египет располагался на северо-востоке (1) _____: от (2) _____ моря на севере до первого порога на реке (3) _____ на юге, от (4) _____ моря на востоке (5) _____ пустыни на западе (Красного, Африки, Ливийский, Средиземного, Нил).

Ответ:

1. Африки

2. Средиземного

3. Нил

4. Красного

5. Ливийской

Блок 7. Задание с выбором правильного ответа (10 баллов за каждое задание, всего 30 баллов).

Задание 25. Страна, которая расположена на восточном побережье Средиземного моря, где находятся города Библ, Тир, Сидон.

- а) Индия
- б) Египет
- в) *Финикия*

Задание 26. Страна, которая расположена в восточной Азии. В этой стране находится река, которую называют «река тысячи бед»

- а) Египет
- б) Двуречье
- в) *Китай*

Задание 27. Страна, которая расположена на берегах Нила от первого порога до средиземного моря.

- а) Финикия
- б) *Египет*
- в) Индия



Многопрофильная инженерная олимпиада «Звезда» по истории

8-9 классы

Отборочный этап
Вариант 1

2018-2019

Задания, ответы и критерии оценивания

Блок 1. Задания с выбором одного ответа из четырех (30 баллов, по 2 балла за каждый правильный ответ).

Задание 1. Раба в древней Руси называли:

- | | |
|------------|--------------|
| а) закуп | г) тиун |
| б) рядович | д) огнищанин |
| +в) холоп | е) смерд |

Задание 2. Посадником называли главу государства:

- | | |
|---|------------------------------------|
| +а) в Новгороде Великом | в) в Галицко – Волынском княжестве |
| б) во Владимиро – Суздальском княжестве | г) в Золотой Орде |

Задание 3. Значение Куликовской битвы состояло в том, что она привела к:

- | | |
|-------------------------------|------------------------------|
| а) падению ордынского ига | в) разгрому главных сил Орды |
| б) объединению русских земель | +г) распаду Орды |

Задание 4. Опричнина это:

- +а) меры, направленные на установление самодержавной власти Ивана IV
- б) территория, выведенная из – под управления Земского Собора и Боярской Думы
- в) личная охрана царя Ивана IV
- г) правительство, составленное из приближенных Ивану IV людей

Задание 5. К политике меркантилизма не относится:

- а) поддержание активного торгового баланса
- +б) поощрение ввоза заграничных товаров
- в) активное вмешательство государства в экономику
- г) поддержка отечественных предпринимателей и купцов

Задание 6. В числе явлений, побудивших Петра I к проведению преобразований в России, не было такого, как:

- а) экономическое отставание России от передовых стран Запада
- б) отсталость в организации и вооружении русской армии
- в) изолированность русской культурной жизни от европейской
- +г) право открывать предприятия без разрешения правительства

Задание 7. Указ 1714 года о единонаследии определял:

- а) новый порядок наследования царского престола
- б) порядок замещения высших государственных постов
- +в) новый порядок наследования недвижимости дворянами
- г) отмену местничества.

Задание 8. Лицо, руководившее государством в случае малолетства или болезни монарха, называлось в XVIII веке:

- | | |
|--------------|---------------|
| а) фаворитом | +в) регентом |
| б) кесарем | г) опричником |

Задание 9. Уложенная комиссия, созванная Екатериной II, начала работу в:

- а) 1761 г. +в) 1767 г.
б) 1762 г. г) 1775 г.

Задание 10. «Манифест о вольности дворянской» был подписан:

- а) Анной Ивановной +в) Петром III
б) Елизаветой Петровной г) Екатериной II.

Задание 11. Первая русская официальная газета называлась:

- +а) Ведомости в) Правда
б) Куранты г) Искра

Задание 12. Мелкотоварное производство – это:

- а) производство небольших по размерам товаров
б) небольшое производство, выпускающее изделия по заказам покупателей
+в) небольшое предприятие, выпускающее изделия для продажи на рынке
г) производство изделий для употребления в собственном хозяйстве

Задание 13. К крупнейшим центрам торговли в России в XVIII веке НЕ относилась ярмарка:

- а) Ирбитская в) Коренская
б) Макарьевская +г) Нижегородская

Задание 14. В каком веке Россия стала именоваться империей?

- а) 16 век +в) 18 век
б) 17 век г) 19 век

Задание 15. Кто из русских царей был убит в результате заговора в 1801 году?

- а) Петр I в) Александр II
+б) Павел I г) Александр III

Блок 2. Задания на установления хронологической последовательности.

Задание 16. Расположите в хронологическом порядке следующие события (7 баллов):

- а) Битва на реке Калке е) Соляной бунт в Москве
б) Созыв первого Земского Собора ж) Ливонская война
в) Опричнина з) Крымская война
г) Полтавская битва и) Медный бунт в Москве
д) Семилетняя война

Ответ: а, б, ж, в, е, и, г, д, з

Задание 17. Соотнесите мир и войну, в ходе которой он был заключен, а также дату войны (14 баллов, по 2 балла за каждый правильный ответ)

| | | |
|-----------------------------------|--------------------|--------------|
| 1. Северная война | А. Туркманчайский | А. 1632-1634 |
| 2. Крымская война | Б. Венский | Б. 1700-1721 |
| 3. Русско-иранская война | В. Адрианопольский | В. 1826-1828 |
| 4. Война за «польское наследство» | Г. Поляновский | Г. 1853-1856 |
| 5. Русско-турецкая война | Д. Адрусовкое | Д. 1654-1667 |
| 6. Смоленская война | Е. Парижский | Е. 1733-1735 |
| 7. Русско-шведская война | Ж.Фридрихсгамский | Ж. 1808-1809 |
| | З. Ништадтский | З. 1828-1829 |

Ответ:

| | | | | | | |
|---|---|---|---|---|---|---|
| 1 | 2 | 3 | 4 | 5 | 6 | 7 |
| З | Е | А | Б | В | Г | Ж |
| Б | Г | В | Е | З | А | Ж |

Блок 3. Задания с открытым вариантом ответа (34 балла, по 2 балла за каждый правильный ответ).

Задание 18. О ком или о чем идет речь?

- | | | |
|---|--|--|
| 1. Правил в Киеве тот князь, И молва о нем неслась. Все соседи князя знали И мудрейшим называли. | 3. Из овчины шубу сшили И довольны очень были Ведь морозов не боится, Тот кто в шубу облачится. | 5. Униженный, без воли, без земли Как жаркий раб, всегда лишен покоя, Крестьянин русский, Много сотен лет Тебя томило право... |
| 2. Зимний дворец у Невы, посмотри! Жили когда-то в нем наши цари. Ну а сейчас в нем огромный музей, Города гордость и Родины всей. | 4. Петр диковинки любил, Собирал их и копил. Из причуды царской сей Первый создан был музей | |

Ответ:

1. Ярослав

2. Эрмитаж

3. Тулуп

4. Кунсткамера

5. Крепостное

Задание 19. Ответьте на вопросы:

1. Наиболее заметными русскими царями были Иван IV и Пётр I. А кто из их «коллег» объединял приписываемые им качества?

Ответ: Иван III. Современники называли его и Великим и Грозным.

2. Назовите царевну, правительницу русского государства, при малолетних братьях Иване и Петре.

Ответ: Софья.

3. В истории России их было трое. И второй, и третий были внуками первого. На то, чтобы называться третьим, было много претендентов. Первого звали Великий. Назовите имя.

Ответ: Пётр.

4. В царствование какой российской императрицы для свадьбы придворного шута был построен Ледяной дом?

Ответ: Анны Иоанновны, российской императрицы с 1730 года, племянницы Петра I.

5. Как звали сына Петра Первого, который по приказу отца был брошен в Петропавловскую крепость?

Ответ: Алексей.

6. Этот князь написал своим сыновьям «Поучение».

Ответ: Владимир II Мономах. В «Поучении» призывал сыновей укреплять единство Руси..

7. В 1583 году Иван Грозный пожаловал этому купцу деревню Большие Соли за заслуги в освоении Сибири. Назовите этого купца.

Ответ: Семён Строганов.

8. Во время правления какой императрицы к России были присоединены Крым и Северное Причерноморье?

Ответ: Екатерина II.

9. Кто из русских царей был убит в результате заговора в 1801 году?

Ответ: Павел I.

10. Назовите фамилию человека, который под именем Петра III в 1773 году возглавил восстание яицких казаков.

Ответ: Емельян Пугачёв.

11. Как звали первого русского митрополита, независимого от Византии?

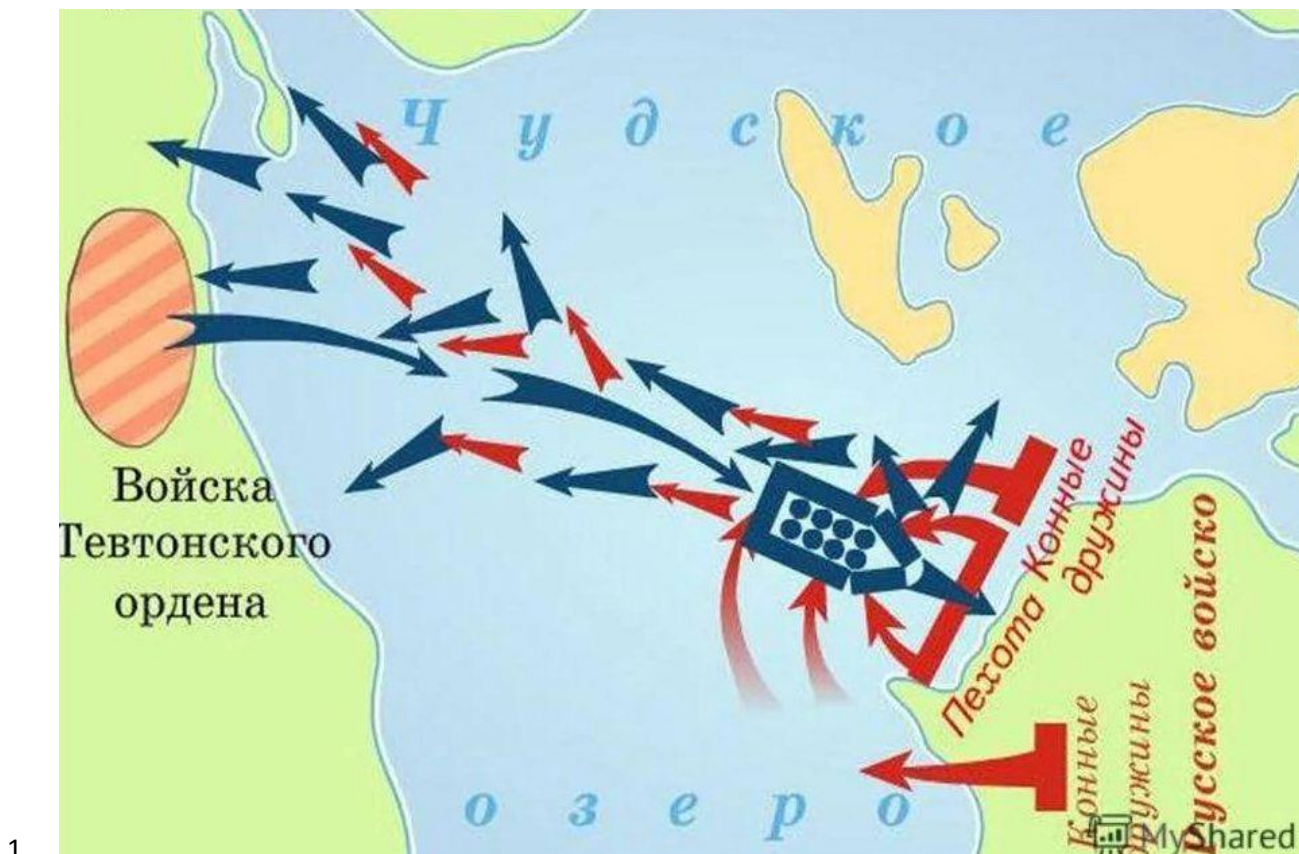
Ответ: Иона.

12. Кого из российских императриц звали в девичестве София-Шарлотта-Августа-Фредерика Ангальт-Цербстская?

Ответ: Екатерина II.

Блок 4. Работа с картами (15 баллов, по 3 балла за каждый правильный ответ)

Задание 20. Определите какие битвы изображены на иллюстрациях, укажите названия, даты и участников сражений.

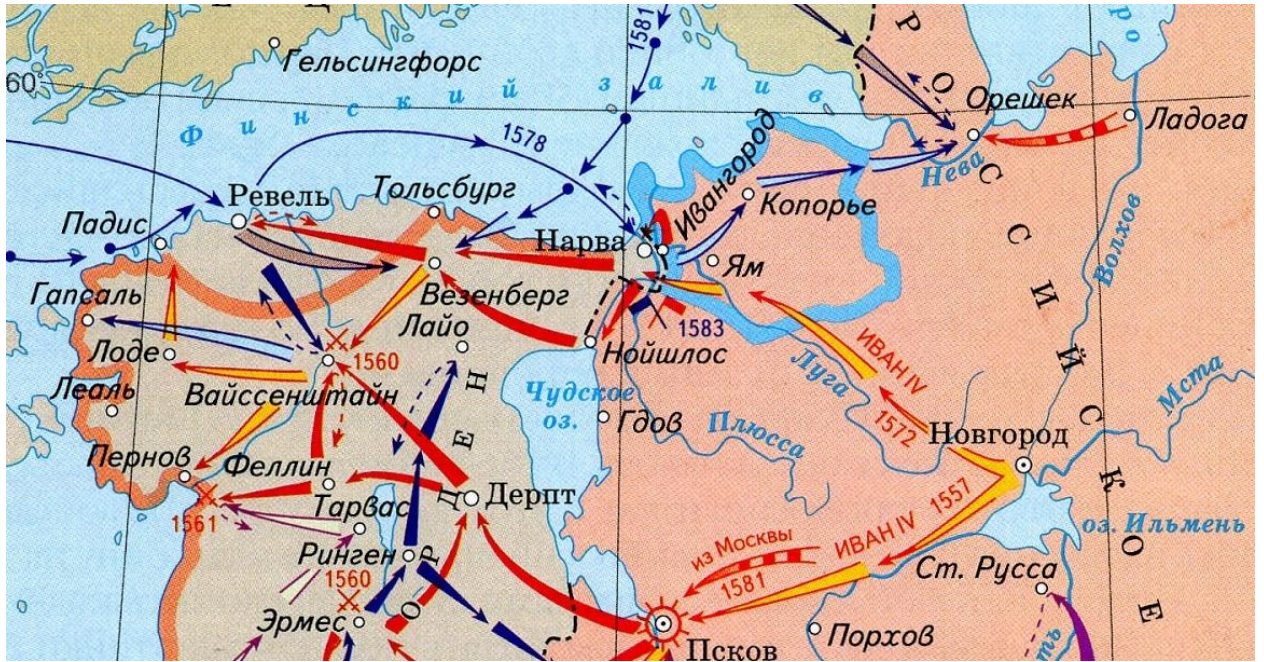


Ответ: Ледовое побоище. Сражение состоялось в начале апреля 1242 года на Чудском озере, с одной стороны в нем принимали участие войска Новгородской Республики, которые возглавлял Александр Невский, с другой стороны ему противостояли войска германцев-крестоносцев, в основном представители Ливонского.



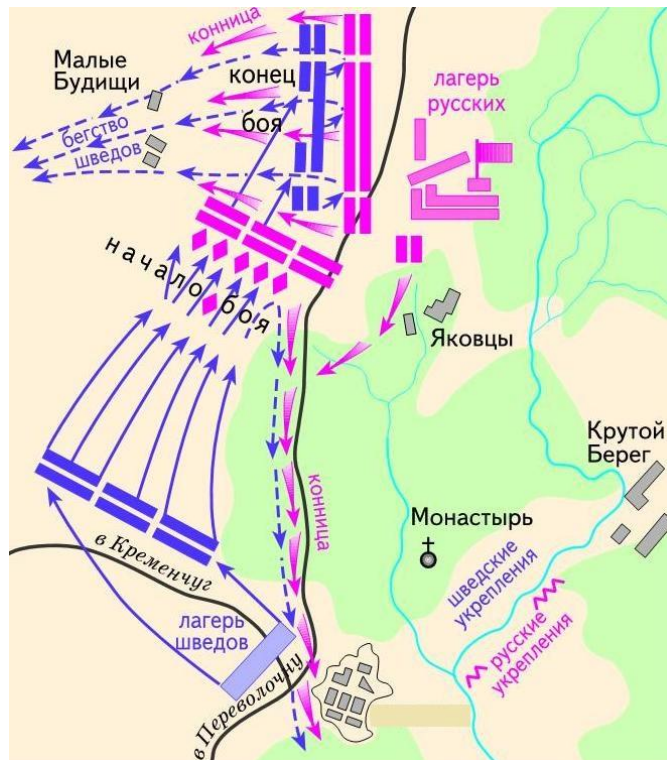
2.

Ответ: Северная война России со Швецией длилась долгие 21 года с 1700 года по 1721 год. Ее итоги были весьма положительными для нашей страны, ведь в результате войны Петру удалось "прорубить окно в Европу". Россия осуществила главную свою цель - закрепились на Балтийском море.



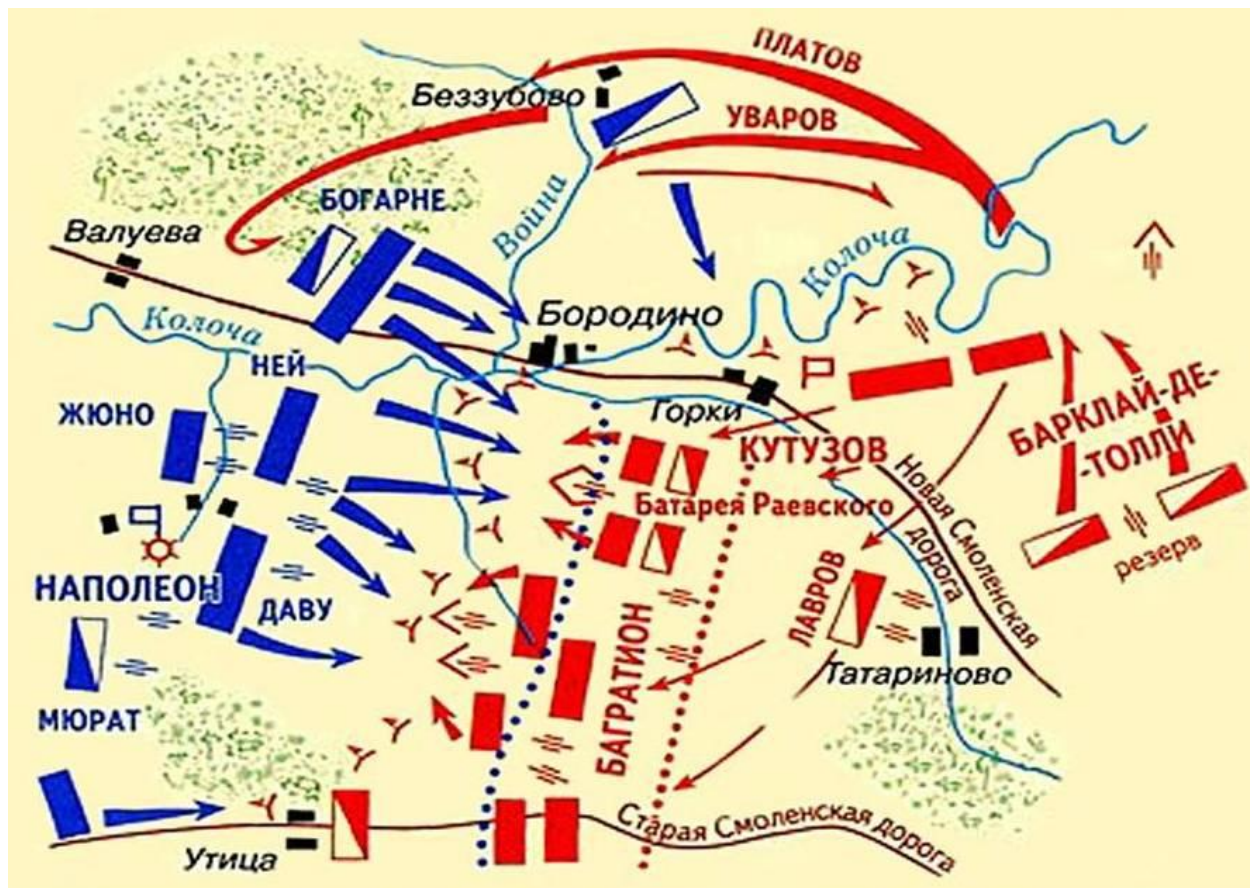
3.

Ответ: Ливонская война длилась с 1558 по 1583 года. В ходе войны Иван Грозный стремился получить доступ и захватить портовые города Балтийского моря, что должно было существенно улучшить экономическое положение Руси, за счет улучшения торговли. Ливонская война (1558–1583 гг.) — война Русского царства против Ливонского ордена, Польско-Литовского государства, Швеции и Дании.



4.

Ответ: Полтавская битва 1709 год. Победа русских войск Петра I над армией шведского короля Карла XII. Перелом в ходе Северной войны.



5.

Ответ: Бородинская битва была главным сражением в войне 1812 года. Впервые была развеяна легенда о непобедимости армии Наполеона, и внесен решающий вклад в изменении численности французской армии за счет того, что последняя, из-за масштабных жертв, перестала иметь явное численное преимущество над российской армией. Участники – Россия и Франция.



**Многопрофильная инженерная олимпиада «Звезда»
по истории**

10-11 классы

Отборочный этап

2018-2019

Вариант 1

Задания, ответы и критерии оценивания

Блок 1. Задания с выбором одного ответа из четырех (20 баллов, по 2 балла за каждый правильный ответ).

1. Укажите термин, который относится к XVII веку

1. местничество
2. удел
3. +*поповщина*
4. рекрутчина

2. Укажите явление, которое характеризует курс реформ Александра I

1. Индустриализация
2. Складывание сословного общества
3. +*Бюрократизация управления*
4. Децентрализация политической системы

3. Выберите верное суждение

1. По вопросу о подписании сепаратного мира с Германией В. Ленин отстаивал позицию «Ни войны, ни мира»
2. +*Г. Маленков был сторонником разоблачения «культы личности» И. Сталина*
3. Появление традиции летописания на Руси относится к периоду политической раздробленности
4. Установленный Петром I порядок престолонаследия просуществовал до падения монархии в Российской империи

4. Назовите год появления Указа о секуляризации церковных земель

1. 1721 г.
2. 1732 г.
3. +*1764 г.*
4. 1797 г.

5. Укажите исторических деятелей, чьи имена связаны с политикой «шоковой терапии»

1. Б. Ельцин, Е. Гайдар, Р. Хасбулатов
2. +*Б. Ельцин, А. Чубайс, Е. Гайдар*
3. А. Чубайс, Е. Примаков, Б. Немцов
4. В. Геращенко, Г. Явлинский, Л. Абалкин

6. Какое из перечисленных событий произошло раньше остальных?

1. Подписание Антикоминтерновского пакта
2. +*Создание государства Манчжоу-го*
3. Начало Зимней войны
4. «Мюнхенский сговор»

7. Причиной свертывания Новой экономической политики послужил(а)

1. +Кризис хлебозаготовок
2. Рост крестьянских выступлений
3. Победа Н. Бухарина во внутрипартийной борьбе
4. Успехи советской индустриализации

8. Лозунгом предвыборной президентской кампании Б. Ельцина 1996 г. являлся

1. «Россия, вперед!»
2. «Сильный президент – сильная Россия»
3. «Нет коммунистам во власти!»
4. +«Голосуй сердцем»

9. Восстановление экономики СССР после Великой Отечественной войны включало в себя

1. Расширение приусадебного хозяйства в колхозах
2. Сохранение системы нормированного распределения потребительских товаров до выхода экономики на довоенные показатели
3. Увеличение капиталовложений, адресованных предприятиям группы Б
4. +Проведение денежной реформы

10. Противником России в Крымской войне являлась

1. Италия
2. Пруссия
3. Австрия
4. +Сардиния

Блок 2. Задания с выбором нескольких вариантов ответа (15 баллов, по 3 балла за каждый правильный ответ).

11. Из предложенного ниже списка выберите имена участников русско-японской войны

- +1. С.О. Макаров
- +2. Р.И. Кондратенко
3. М.Д. Скобелев
4. А.В. Колчак
- +5. В.Ф. Руднев
6. А.И. Гучков

12. Укажите условия Договора о ненападении между Германией и СССР (Пакта Молотова-Риббентропа)

1. Советское и Германское правительства готовы гарантировать друг другу режим наибольшего благоприятствования.
2. Финляндия и Аландские острова должны быть немедленно очищены от советских войск...
- +3. Стороны обязуются воздерживаться от всякого насилия, от всякого агрессивного действия и всякого нападения в отношении друг друга как отдельно, так и совместно с другими державами.
4. Германия и СССР взаимно отказываются от возмещения их военных расходов.
- +5. ...Если одна из Договаривающихся Сторон окажется объектом военных действий со стороны третьей державы, другая Договаривающаяся Сторона не будет поддерживать ни в какой форме эту державу.
- +6. Настоящий договор заключается сроком на десять лет.

13. Опираясь на стихотворное описание, догадайтесь, о каком городе идет речь. Назовите факты из истории этого города

«Старовечный и вечно новый / Над рекой поднимается город... / Горд он колоколом недремным / Медь гремит его гулко и веще. / Часто скопищем светлым и темным / Вкруг него собирается вече...»

1. город не платил Орде выход
2. город располагался на берегу Балтийского моря
- +3. в городе Ярославом Мудрым был построен Софийский собор
- +4. важный торговый путь Киевской Руси проходил через этот город
5. город входил в Ганзейский союз
- +6. в XIV в. в нем распространилась ересь стригольников

14. Укажите последствия Великого посольства 1697-1698 гг.

- +1. Посольство привело к выработке новой внешнеполитической доктрины России.
2. Российские представители заключили военный союз с итальянскими государствами.
- +3. Великому посольству удалось пригласить на русскую службу иностранных специалистов.
4. Опыт Великого посольства способствовал появлению в России службы внешней разведки.
- +5. Впечатления Петра I от Амстердама нашли отражение в планировке Петербурга.
6. В ходе Великого посольства были заключены торговые договоры на поставку железа из России в Польшу и Данию.

15. Летние олимпийские игры 1980 г., прошедшие в СССР, были примечательны во многих отношениях. Назовите действительные факты их истории:

1. В Олимпиаде приняло участие наибольшее количество спортсменов за всю историю игр.
- +2. Помимо Москвы, олимпийские соревнования проходили также в Таллине, Ленинграде, Киеве и Минске.
3. Это были первые в истории олимпийского движения игры, которые подверглись бойкоту со стороны ряда стран.
4. Бойкот Олимпиады западными странами был объявлен в связи со сбитием СССР южнокорейского пассажирского самолета.
- +5. Олимпиада-80 стала первой, проведенной в социалистической стране.
- +6. В ходе церемонии открытия Олимпиады с приветствием к спортсменам из космоса обратились советские космонавты.

Блок 3. Задания на установление правильной последовательности (10 баллов, по 5 баллов за каждый правильный ответ).

16. Расположите в хронологической последовательности события периода правления Елизаветы Петровны (5 баллов за правильный ответ)

1. победа русских войск при Кунерсдорфе
2. разрешение помещикам ссылать крепостных в Сибирь
3. заключение Абоского мира
4. указ об отмене внутренних таможенных пошлин
5. создание первого в России публичного театра

Ответ: 3 4 5 1 2

17. Расположите в хронологической последовательности исторические явления (5 баллов за правильный ответ)

1. местничество
2. полюдые
3. приказ
4. парсуна
5. митрополит

Ответ: 2 5 1 3 4

Блок 4. Задания на установление соответствия (24 балла).

18. Установите соответствие между именами представителей культуры, сферой деятельности и их произведениями (8 баллов, по 2 балла за каждый правильный ответ).

| Имя | Сфера деятельности | Произведение |
|-----------------------|--------------------|---|
| 1. К.Ф. Юон | А) театр | I. (М)ученик |
| 2. К.М. Симонов | Б) скульптура | II. Мавзолей В.И. Ленина |
| 3. К.С. Серебрянников | В) литература | III. Парад на Красной площади в Москве 7 ноября 1941 года |
| 4. А.В. Щусев | Г) живопись | IV. Тихий Дон |
| | Д) архитектура | V. Живые и мертвые |

Ответ: 1-Г-III; 2-В-V; 3-А-I; 4-Д-II.

19. Правильно соотносите термины и их определения (8 баллов, по 2 балла за каждый правильный ответ).

| Термин | Определение |
|---------------------------|--|
| 1. месячина | А) государственные крестьяне, переданные в условное владение купцам для работы на мануфактурах |
| 2. однодворцы | Б) звание в русском флоте для воспитанников старших рот Морской академии |
| 3. посессионные крестьяне | В) лицо, принятое на военную службу по воинской повинности |
| 4. рекрут | Г) государственные крестьяне из бывших служилых людей «по прибору» |
| | Д) шестидневная барщина крепостных, лишенных земельного надела |

Ответ: 1-Д, 2-Г, 3-А, 4-В.

20. Установите соответствие между событиями отечественной и зарубежной истории (8 баллов, по 2 балла за каждый правильный ответ).

| Событие отечественной истории | Событие зарубежной истории |
|------------------------------------|---|
| 1. Соляной бунт | А) восстание У. Тайлера |
| 2. избрание Б. Годунова на царство | Б) Нантский эдикт Генриха IV во Франции |
| 3. поход Тохтамыша на Москву | В) правление Генриха VII в Англии |
| 4. установление Юрьева дня | Г) «Славная революция» в Англии |
| | Д) Вестфальский мир |

Ответ: 1-Д, 2-Б, 3-А, 4-В.

Блок 5. Задание на восстановление пропущенных данных (4 балла).

21. Историк необходимо владеть специальной терминологией, описывающей события и явления исторического процесса. Впишите правильные буквы вместо пропусков в предложенные термины (4 балла, по 1 баллу за каждое правильно написанное слово).

1. к_см_п_л_т
2. р_п_тр_ация
3. р_аб_л_т_ция
4. пр_л_тк_льт

Ответ:

1. космополит
2. репатриация
3. реабилитация
4. пролеткульт

Блок 6. Работа с текстом (8 баллов).

22. Заполните пропуски в тексте (4 балла).

Все пропущенные слова записываются в именительном падеже.

Глава первая. О существе верховной самодержавной власти

4. Императору всероссийскому принадлежит верховная самодержавная власть. Повиноваться власти его, не только за страх, но и за совесть, сам бог повелевает.

5. Особа государя императора священна и неприкосновенна. (...)

7. Государь император осуществляет законодательную власть в единении с _____ и _____.

Ответ: Государственный совет; Государственная дума

23. Заполните пропуски в тексте (4 балла).

Все пропущенные слова записываются в именительном падеже.

1. Помещичья собственность на землю отменяется немедленно без всякого выкупа.

2. Помещичьи имения, равно как все земли удельные, монастырские, церковные, со всем их живым и мертвым инвентарем, усадебными постройками и всеми принадлежностями переходят в распоряжение волостных земельных комитетов и уездных Советов крестьянских депутатов, впредь до _____.

Ответ: Учредительное собрание

Блок 7. Работа с изображениями (19 баллов).

24. Внимательно рассмотрите карикатуру и выберите верные суждения о ней, из тех, что представлены ниже (9 баллов).

1. Фраза начальника, обращённая к конструктору, свидетельствует о приоритетном применении в сельскохозяйственном производстве СССР интенсивных технологий.

2. Ситуация, связанная с предстоящей поездкой конструктора на картошку, являлась типичной для позднесоветского периода.

3. Конструктор, изображённый на карикатуре, использует в работе компьютер.

4. Номер журнала, на обложке которого представлена карикатура, вышел в свет в период «оттепели».

5. В период, когда вышел номер журнала, в СССР была проведена реформа, направленная на усиление экономического стимулирования народного хозяйства и расширение самостоятельности предприятий.

vk.com/caricatu



КРОКОДИЛ

№ 27 • СЕНТЯБРЬ 1974



— Довольно заниматься ерундой—поедете на картошку!

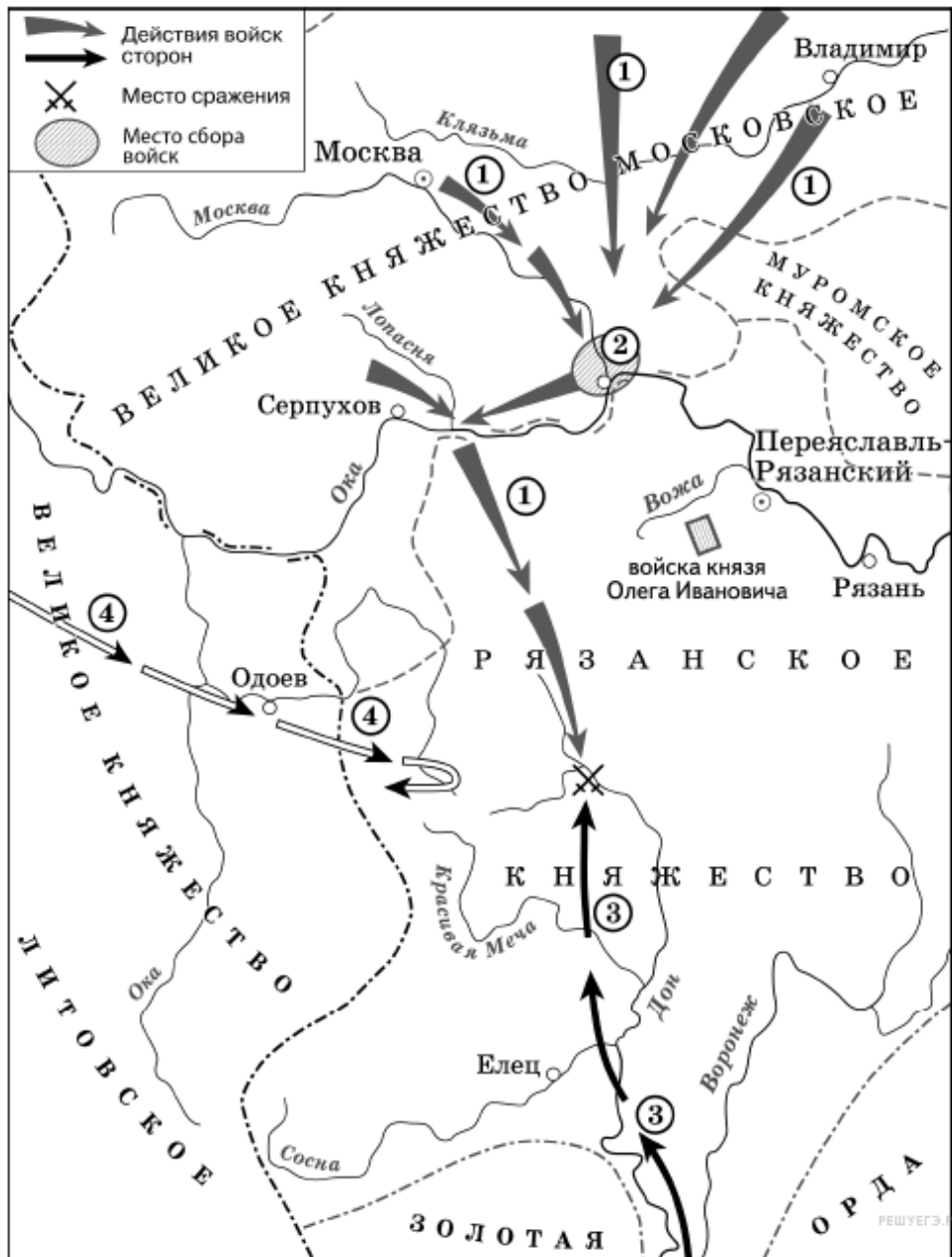
Рисунок В. ЖАРИНОВА

Подпись под карикатурой: - Довольно заниматься ерундой – поедете на картошку!

Ответ 2, 5.

25. Внимательно рассмотрите историческую карту и ответьте на вопросы (10 баллов).

1. Назовите события, изображенные на карте, и датировите их с точностью до года.
2. Назовите город, обозначенный цифрой 2.
3. Подпишите участников события (с обязательным указанием военачальника), изображенных на карте стрелками 1, 3, 4.



Ответ:

1. Куликовская битва (1 балл), 1380 г. (1 балл)

2. Коломна (2 балла)

3. 1) войска русских князей или войска Дмитрия Ивановича Московского (2 балла); 3) ордынские войска Мамай (2 балла); 4) литовские войска Ягайло (2 балла)